

Сопrotивление материалов; Прикладная механика

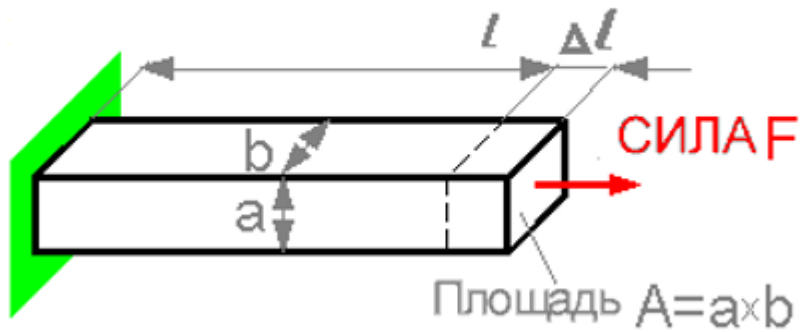
(სამთო-გეოლოგია, სატრანსპორტო)

I სემესტრი. 2020-2021 წელი

(შუალედური გამოცდის ნიმუში)

Question 1

Деформация Δl пропорциональна

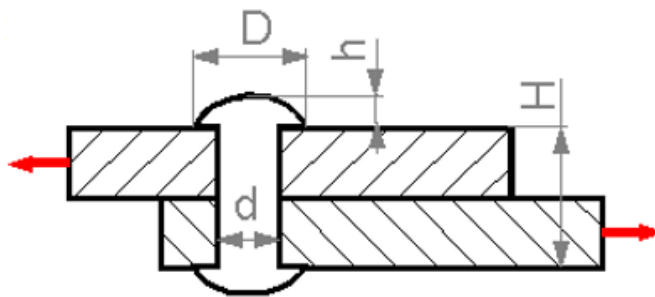


Select one:

- a. Высота a
- b. Ширина b
- c. Длина l

Question 2

Увеличение какого параметра может вызывать повышение предела прочности при сдвиге?



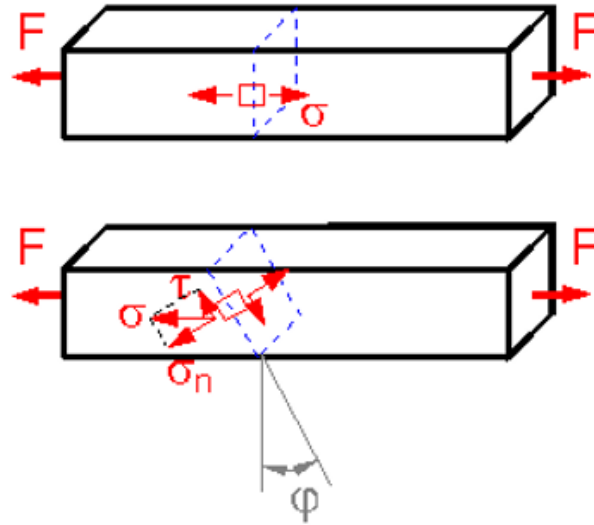
Select one:

- a. Высоты h.
- b. Диаметра d.
- c. Диаметра D.

d. Высоты H .

Question 3

Для какого угла наклона плоскости φ касательное напряжение τ будет наибольшим?

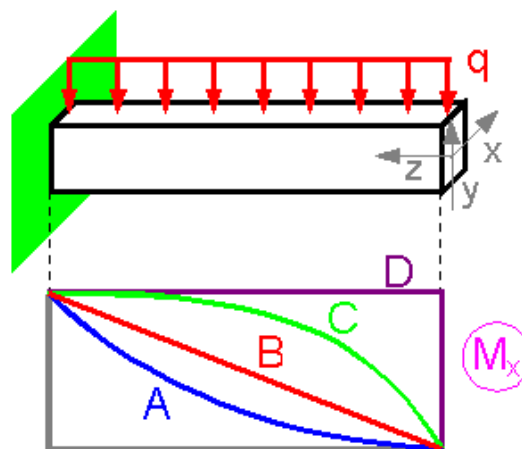


Select one:

- a. 60°
- b. 30°
- c. 90°
- d. 0°
- e. 45°

Question 4

Какая зависимость точно отражает график изгибающих моментов для данной схемы нагружения?



Select one:

- a. C
- b. A
- c. B
- d. D