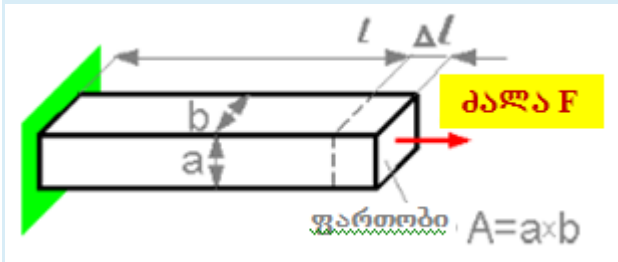


მასალათა გამბეობა 1. (სამშენებლო)
I სემესტრი. 2018-2019 წელი
(ფინალური გამოცდის ნიმუში)

კითხვა 1

Δl წაგრძელება პროპორციულია?

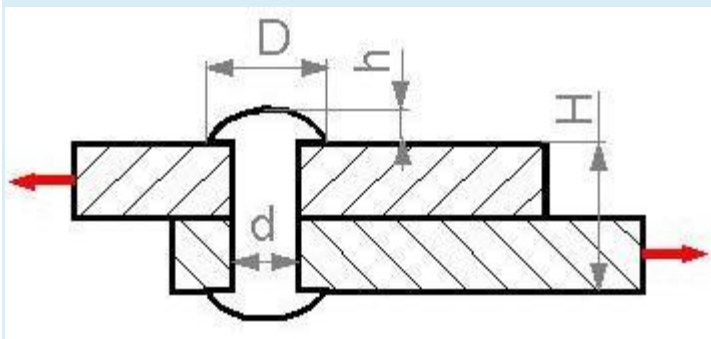


აირჩიეთ ერთი:

- a. l სიგრძის
- b. b სიგანის
- c. a სიმაღლის

კითხვა 2

რომელი პარამეტრის გაზრდას შეუძლია გამოიწვიოს ზღვრული F_{lim} დატვირთვის გაზრდა?

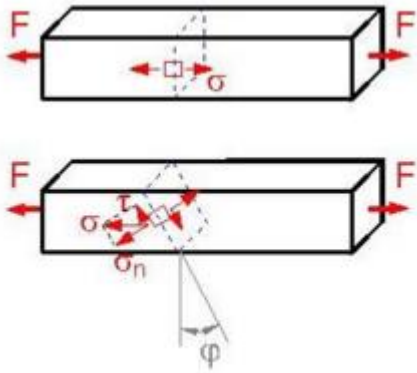


აირჩიეთ ერთი:

- a. h სიმაღლის.
- b. H სიმაღლის.
- c. d დიამეტრის.
- d. D დიამეტრის.

კითხვა 3

კვების დახრილობის რა ϕ კუთხისათვის არის უდიდესი მხევი τ ძაბვა?

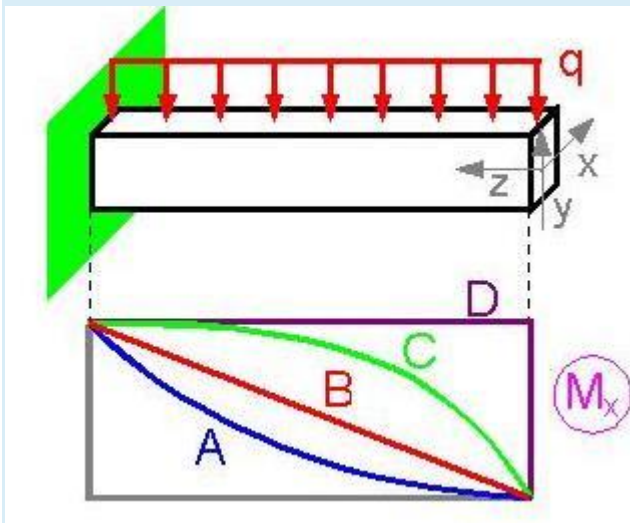


აირჩიეთ ერთი:

- a. 90° .
- b. 30° .
- c. 60° .
- d. 45° .
- e. 0° .

კითხვა 4

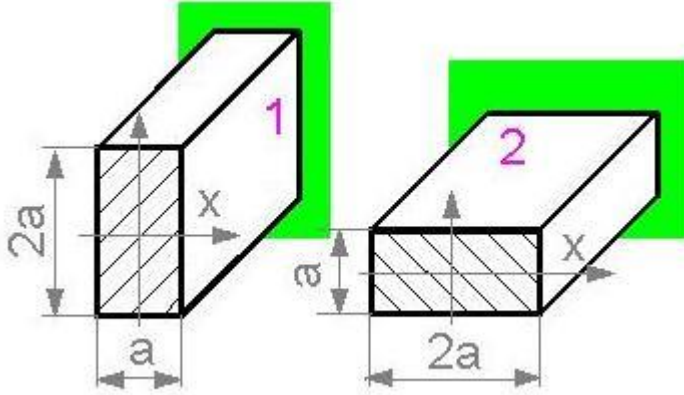
მლუნავი $M(z)$ მომენტის რომელი გრაფიკი შეესაბამება ზუსტად დატვირთვის მოცემულ სქემას?



აირჩიეთ ერთი:

- a. D
- b. B
- c. A
- d. C

კითხვა 5



რამდენჯერ შემცირდება ინერციის I_x მომენტი, თუ კოჭი მოტრიალდება 90° -ით?

აირჩიეთ ერთი:

- a. 8-ჯერ.
- b. არ შემცირდება.
- c. 2-ჯერ.
- d. 4 ჯერ