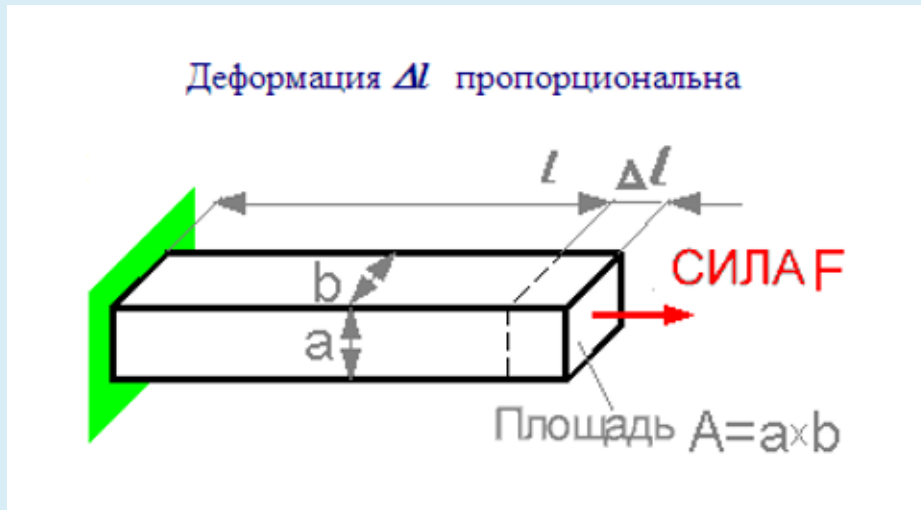


Соппротивление материалов - მასალათა გამბლეობა
(სამთო-გეოლოგია) I სემესტრი. 2018-2019 წელი
Образец промежуточного теста
შუალედური გამოცდის ნიმუში

Question 1

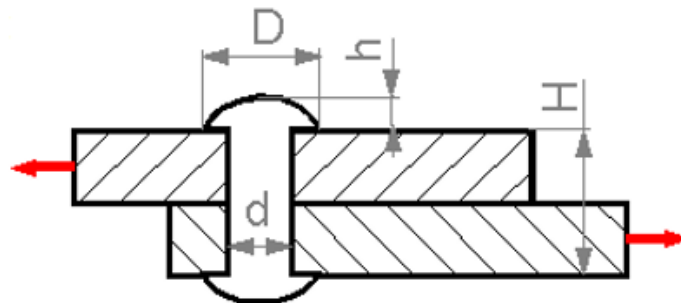


Select one:

- a. Высота a
- b. Ширина b
- c. Длина l

Question 2

Увеличение какого параметра может вызывать повышение предела прочности при сдвиге?

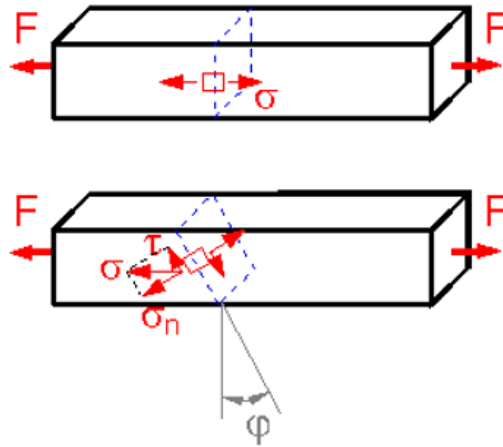


Select one:

- a. Высоты h.
- b. Высоты H.
- c. Диаметра D.
- d. Диаметра d.

Question 3

Для какого угла наклона плоскости ϕ касательное напряжение τ будет наибольшим?

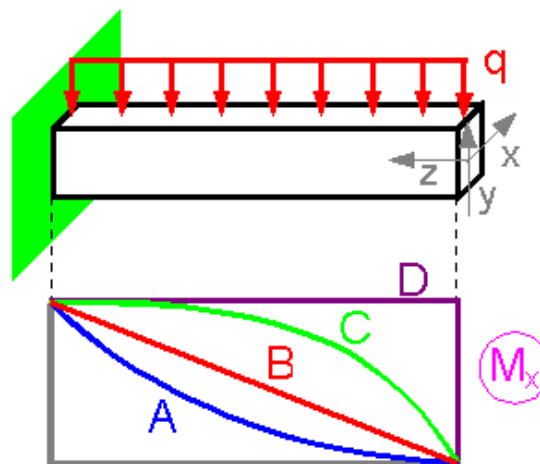


Select one:

- a. 45°
- b. 90°
- c. 30°
- d. 0°
- e. 60°

Question 4

Какая зависимость точно отражает график изгибающих моментов для данной схемы нагружения?



Select one:

- a. C
- b. B
- c. A



d. D