

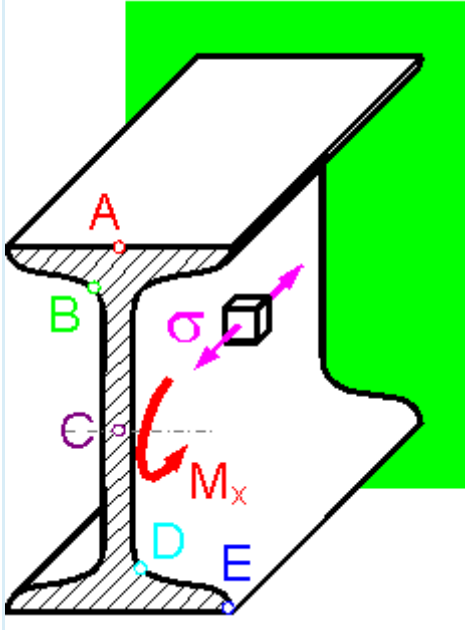
მასალათა გამბლეობა 2 (სამშენებლო) 1690 ჯგუფი

II სემესტრი 2017-2018 წელი

(I შუალედური ტესტირების ნიმუში)

კითხვა 1

კონსოლური კოჭის განივი კვეთის რომელ წერტილშია გამჭიმავი σ დაბვა მაქსიმალური?



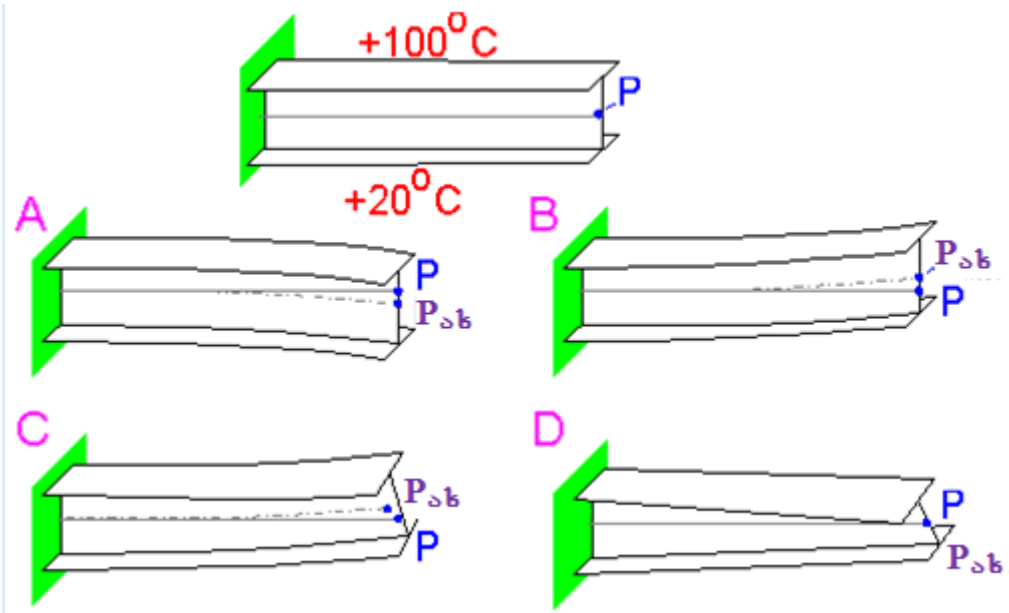
აირჩიეთ ერთი:

- a. D.
- b. E.
- c. A.
- d. B.
- e. C.

კითხვა 2

კონსოლური კოჭის ზედა შვერილი სწრაფად გაახურეს ოთახის ტემპერატურიდან 100° -მდე, რამაც გამოიწვია სითბური გაფართოება და კოჭის ფორმის ცვლილება.

როგორ გამოიყურება დეფორმირებული კოჭი?




აირჩიეთ ერთი:

- a. D.
- b. A.
- c. B.
- d. C.

კითხვა 3

ექნება თუ არა ადგილი მკუმშავ σ - დაბევებს საყრდენ კვეთში, რომელშიც მოქმედებს მაქსიმალური გამჭიმავი ჯამური $\sigma = \sigma_+ + \sigma_+$ დაბვა?

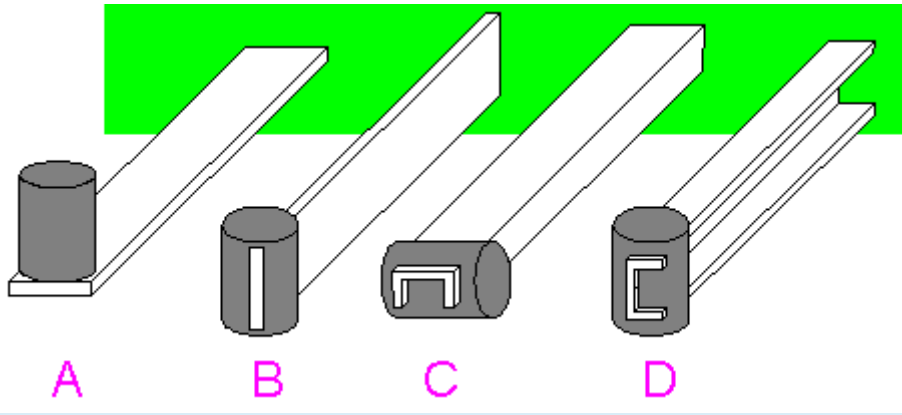


აირჩიეთ ერთი:

- a. დიახ.
- b. არა.

კითხვა 4

ამოირჩიეთ საუკეთესო კონსტრუქცია, ფორმის მდგრადობის თვალსაზრისით.



სარჩივთ ერთი:

- a. D.
- b. C.
- c. A.
- d. B.