

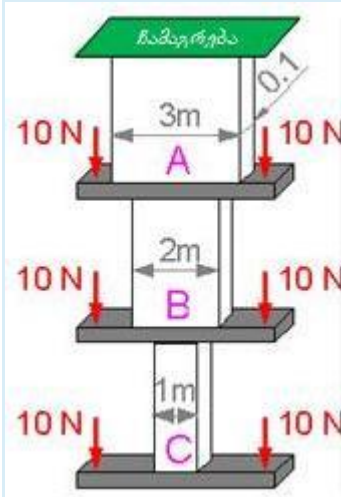
მასალათა გამბლეობა 1 (სამშენებლო) 1780 ჯგუფი

II სემესტრი. 2017-2018 წელი

(I შუალედური ტესტირების ნიმუში)

Question 1

კონსტრუქციის რომელ ნაწილშია გამჭიმავი σ დაბვა მაქსიმალური?

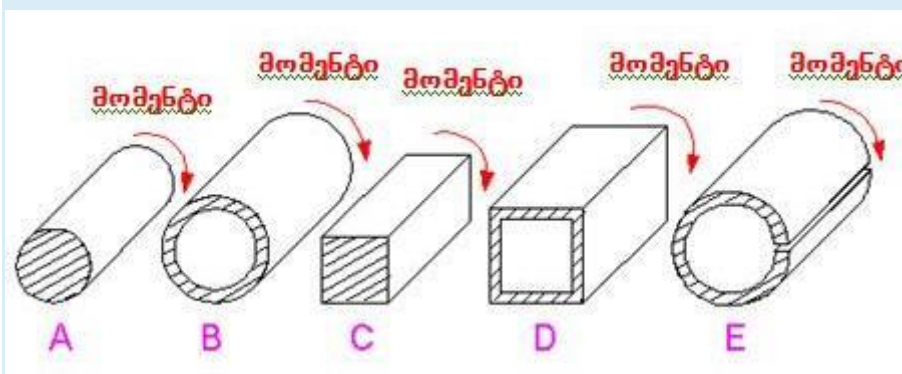


Select one:

- a. A-ში.
- b. ერთნაირია ყველა ნაწილში.
- c. B-ში.
- d. C-ში.

Question 2

ყველა პროფილს აქვს განივი კვეთის ერთნაირი ფართობი. რომელი პროფილის სიხისტეა მაქსიმალური გრეხისას?



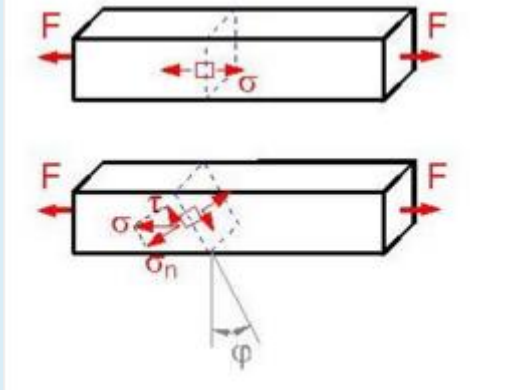
Select one:

- a. B
- b. E

- c. A
- d. D
- e. C

Question 3

კვეტის დახრილობის რა ϕ კუთხისათვის არის უდიდესი მხევი τ ძაბვა?



Select one:

- a. 90° .
- b. 60° .
- c. 30° .
- d. 45° .
- e. 0° .