

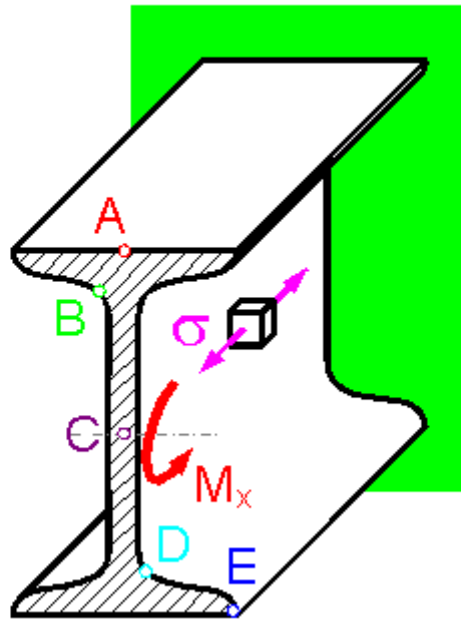
Сопrotивление материалов 2-მასალათა გამბლობა 2

1690 ჯგუფი. II სემესტრი. 2017-2018 წელი

(I შუალედური ტესტირების ნიმუში)

Question 1

В какой точке консольной балки растягивающие напряжения максимальны?

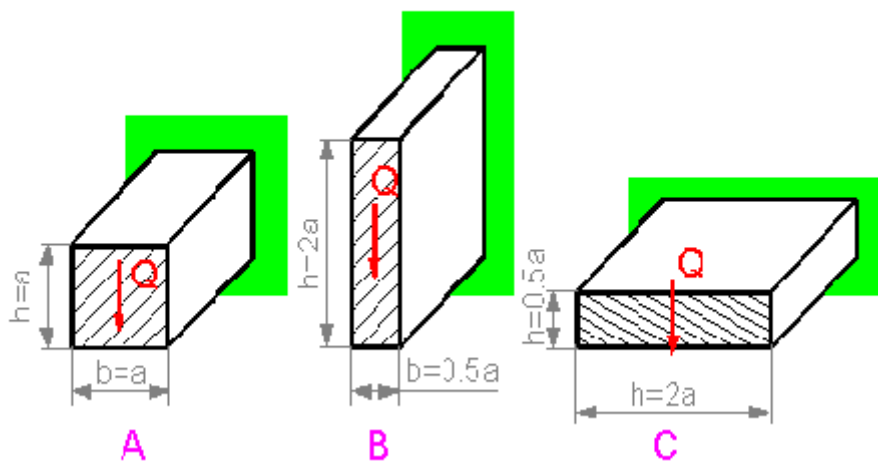


Select one:

- a. B
- b. A
- c. C
- d. D

Question 2

Для какого из образцов максимальное касательное напряжение выше?



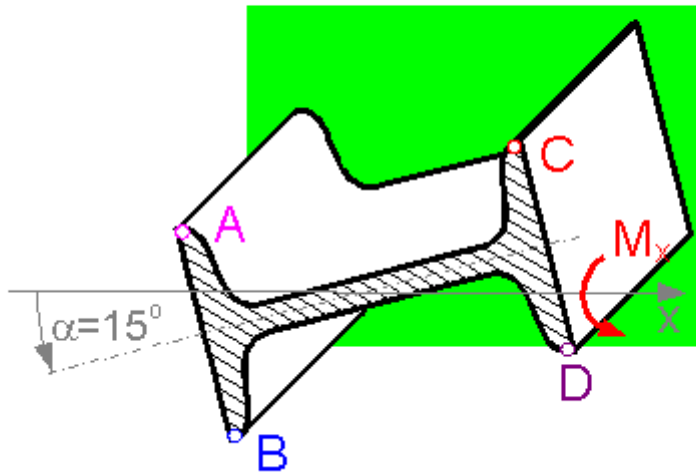
Select one:

- a. B
- b. C
- c. A
- d. Одинаково для всех.

Question 3

Момент M_x сгибает балку в вертикальной плоскости.

В какой точке сечения растягивающее напряжение максимально?

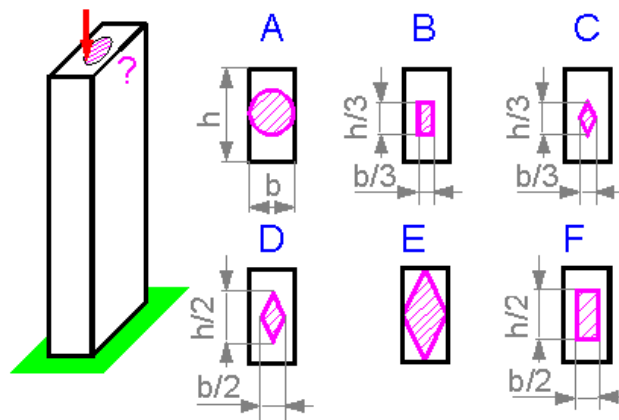


Select one:

- a. B
- b. A
- c. D
- d. C

Question 4

Какова область, для которой приложение сжимающего усилия не вызывает растягивающее напряжение в колонне?



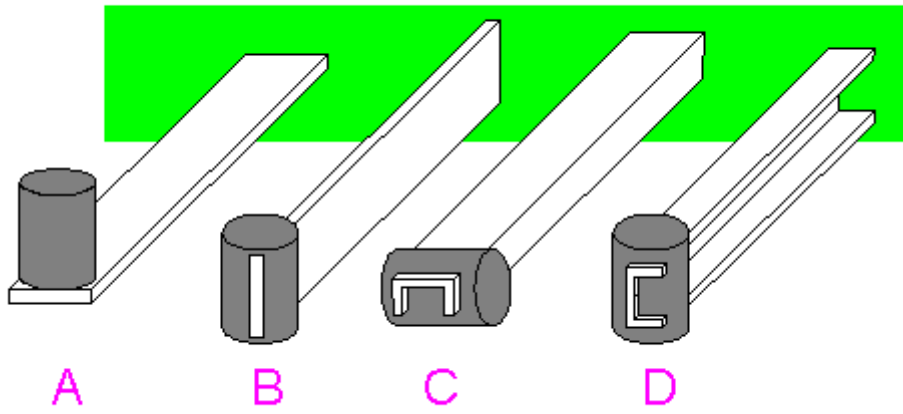
Select one:

- a. B

- b. F
- c. D
- d. C
- e. E
- f. A

Question 5

Выберите лучшую конструкцию.



Select one:

- a. D
- b. A
- c. B
- d. C